




## Mjerenje obujma tekućine

1. Oboji čime možemo izmjeriti obujam tekućine.



2. U krugove upiši redne brojeve od 1 do 3 i poredaj predmete od najmanjeg prema najvećem obujmu.



3. Spoji puni naziv mjernih jedinica s kraticama.

litar	←	dl
decilitar	→	l
hektolitar		ml
mililitar		hl

4. Koliko je čaja u posudi?



1 dl

3 dl

2 dl

4 dl