


19. zadatak na državnom natjecanju 2015. godine (0,5*6 boda)

Na slici su brojevima prikazani neki dijelovi stranice jednog tekstualnog dokumenta. Oni označavaju pojmove: *donja margina*, *lijeva margina*, *desna margina*, *podnožje*, *zaglavlje*, *bilješke na dnu strane* (*fusnote*). Brojevima sa slike pridruži nazive.



1. _____
2. _____
3. _____
4. _____
5. _____
6. _____

Odgovor:

1. zaglavlje
2. desna margina
3. lijeva margina
4. donja margina
5. fusnote
6. podnožje

PROGRAM ZA OBRADU TEKSTA

U propozicijama natjecanja za ovo područje navode se sljedeće teme:

- Dijelovi, uporaba i postavljanje programa za obradu teksta
- Oblikovanje teksta
- Ispis dokumenta
- Zaglavlje, podnožje, stupci
- Crtanje programom za obradu teksta, osnovni likovi, grupiranje objekata

Rad u programu za obradu teksta obrađuje se u 5. i 6. razredu osnovne škole.

MS WORD

Pitanja na natjecanjima iz područja "Program za obradu teksta" odnose se na poznavanje rada u programu MS Word.

Do sada je bilo različitih pitanja iz tog područja, no tijekom pripremanja učenika preporučuje se staviti naglasak na gumb u programu i na uvlake.

10. zadatak na školskom natjecanju 2011. godine (1 bod)

Klikom na gumb  u programu Word:

- a. Lijepimo sadržaj iz međuspremnika
- b. Kopiramo označeni objekt
- c. Brišemo označeni objekt
- d. Izrezujemo označeni objekt i smještamo ga u međuspremnik

Odgovor: A

11. zadatak na školskom natjecanju 2011. godine (1 bod)


U tablici u programu Word pomičete točku upisa u sljedeću ćeliju tipkom:

- a) Shift
- b) Tab
- c) Enter
- d) Control

Odgovor: B

12. zadatak na školskom natjecanju 2012. godine (1 bod)





Koja od ikona u programu Word označava položaj umetnutog objekta „U retku s tekstom” (*In line with text*)?



Odgovor: C

14. zadatak na školskom natjecanju 2012. godine (1 bod)

U programu *Word*, pisanje u više stupaca odabiremo ikonom:

- a)  b) 
- c)  d) 

Odgovor: A


15. zadatak na školskom natjecanju 2012. godine (1 bod)


U programu *Word*, Isječak crteža (*Clip Art*) je:

- a) skupina gotovih crteža
b) način crtanja
c) slike na disku za umetanje
d) naredba za crtanje

Odgovor: A


20. zadatak na školskom natjecanju 2012. godine (1 bod)

Čemu služi gumb 

- a) za umetanje abecede
b) za provjeru pravopisa
c) za provjeru velikih slova
d) za umetanje kvačica „viđeno” 

Odgovor: B

11. zadatak na školskom natjecanju 2013. godine (1 bod)

Čemu služi gumb  u MS Wordu?

- A. za pretvaranje slova u brojeve
B. za pretvaranje brojeva u slova
C. za brojanje riječi
D. za brojanje slova

Odgovor: C

12. zadatak na školskom natjecanju 2013. godine (1 bod)

Kojom tipkom stvaramo novi odlomak u programu za obradu teksta?

Odgovor: ENTER

14. zadatak na školskom natjecanju 2014. godine (0,5+0,5 boda)

Prilikom uređivanja izgleda stranice za ispis, smjer papira može biti: _____

Odgovor: vodoravno i okomito, portret i pejzaž, portrait i landscape

19. zadatak na školskom natjecanju 2014. godine (0,5+0,5 boda)

U programu za obradu teksta ravnalo služi za (dva su odgovora točna):

- A. prilagodbu margina
- B. postavljanje obruba
- C. postavljanje tabulatora
- D. prilagodbu proreda

Odgovor: A, C

10. zadatak na županijskom natjecanju 2011. godine (1 bod)

Koji od navedenih nastavaka **nije** nastavak za tekstualnu datoteku?

- a) .doc
- b) .tif
- c) .rtf
- d) .odt

Odgovor: B (.tif je nastavak za slikovne datoteke)

10. zadatak na županijskom natjecanju 2012. godine (1 bod)


Viseća uvlaka (*Hanging*) u programu za pisanje teksta u odlomku:

- a) Uvlači sve retke u odlomku osim prvog
- b) Uvlači samo prvi redak u odlomku
- c) Uvlači sve retke odlomka
- d) Uvlači označene retke odlomka

Odgovor: A

11. zadatak na županijskom natjecanju 2012. godine (1 bod)

Aktivni (posljednji) gumb za odabir prikaza stranice (*Page Layout*) u programu *Word* prikazuje:



- a) Strukturu (*Outline*)
- b) Nacrt (*Draft*)
- c) Izgled ispisa (*Print Layout*)
- d) Web izgled (*Web Layout*)

Odgovor: B


12. zadatak na županijskom natjecanju 2012. godine (1 bod)

U praznoj tablici u programu *Word* pomičete točku upisa (kursor) u prethodnu ćeliju tipkom:

- a) Shift+Tab
- b) Shift+Enter
- c) Control+Tab
- d) Control+Enter

Odgovor: A

14. zadatak na županijskom natjecanju 2013. godine (1 bod)

Čemu služi gumb  u programu za obradu teksta

- A. Pretvaranje tablice u stupac
- B. Pretvaranje stupca u tablicu
- C. Pretvaranje teksta u tablicu
- D. Pretvaranje tablice u tekst

Odgovor: D

19. zadatak na županijskom natjecanju 2014. godine (1 bod)

Uvlaka teksta u programu za obradu teksta **ne** može biti:

- A. desna
- B. centralna
- C. viseća
- D. lijeva

Odgovor: B


10. zadatak na državnom natjecanju 2011. godine (1 bod)

Kojom kombinacijom tipaka dobijemo prikazan znak § ?

- a) fn+S
- b) AltGr+S
- c) fn+M
- d) AltGr+M

Odgovor: D


13. zadatak na državnom natjecanju 2011. godine (1 bod)

U alatnoj traci programa za pisanje teksta, odabirom gumba 

- a) pokrećemo pretraživanje u dokumentu
- b) pokrećemo aplikaciju za pisanje jednadžbe
- c) umećemo simbol u tekst
- d) umećemo knjižnu oznaku

Odgovor: C

14. zadatak na državnom natjecanju 2011. godine (1 bod)

Čemu služi gumb  u alatnoj traci programa za pisanje teksta ?

Odgovor: zamjenjuje tekst u dokumentu

20. zadatak na državnom natjecanju 2012. godine (1 bod)

Pregled prije ispisa u programu *Word* omogućuje nam kombinacija tipaka:

- a) CTRL +F2
- b) SHIFT + F2
- c) CTRL +F3
- d) SHIFT + F3

Odgovor: A


21. zadatak na državnom natjecanju 2012. godine (1 bod)

U koji od navedenih tipova dokumenta **nije** moguće spremiti dokument napisan programom *Word*:

- a) .docm
- b) .odt
- c) .wps
- d) .ppt

Odgovor: D



22. zadatak na državnom natjecanju 2012. godine (1 bod)

Tezaurus ( *Thesaurus*) u Microsoft Office programima služi za:

- a) predlaganje druge riječi sa značenjem sličnim odabranoj riječi
- b) pronalaženje svih riječi koji počinju zadanim slovima
- c) pregledavanje pravilnog pisanja upisane riječi
- d) pronalaženje napisane riječi u odabranom jeziku

Odgovor: A

23. zadatak na državnom natjecanju 2012. godine (1 bod)

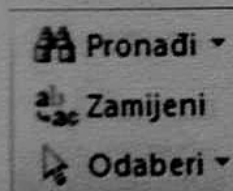
U tablici programa Word, klikom miša na oznaku  u gornjem lijevom kutu tablice i zatim odabirom naredbe za poravnavanje teksta  dobiva se:

- a) Tekst u tablici poravnat će se po sredini.
- b) Cijela tablica će se poravnati po sredini stranice.
- c) Samo će se prvi redak u tablici poravnati po sredini.
- d) Ništa od navedenog.

Odgovor: B

20. zadatak na državnom natjecanju 2013. godine (1 bod)

U nekim programima MS Officea nalaze se ove naredbe. Kojoj grupi naredbi one pripadaju:



Odgovor: Uređivanje

15. zadatak na državnom natjecanju 2014. godine (0,5+0,5+0,5 boda)

Na ravnalu u programu MS Word postavljene su sljedeće oznake.

Napiši što predstavlja pojedina oznaka:




Odgovor:

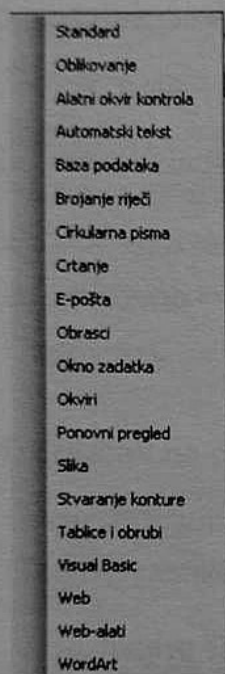
- na 1cm: prvi redak uvučen (uvlaka prvog reda)
- na 3 cm: viseća uvlaka (uvlaka svih redova osim prvog u odlomku)
- na 6 cm: desna uvlaka

24. zadatak na državnom natjecanju 2012. godine (1 bod)

Kako se zove alatna traka zaokružena u *Word* dokumentu na slici?



Zaokruži njeno ime na popisu alatnih traka:



Odgovor: Stvaranje konture

16. zadatak na državnom natjecanju 2014. godine (0,5+0,5+0,5 boda)

Ako je u tekstu sa slike naziv prvog stupca *Prezime*, drugog *Ime*, a trećeg *Visina*, koji tabulatori su korišteni u stupcima prilikom oblikovanja teksta?

→	Mancini	→	Ivan	→	176,25
→	Milić	→	Anastazija	→	154,5
→	Sirovatka	→	Marko	→	98,9

Odgovor:

Prezime: lijevi

Ime: tabulator centriranja

Visina: decimalni tabulator

13. zadatak na školskom natjecanju 2015. godine (1 bod)

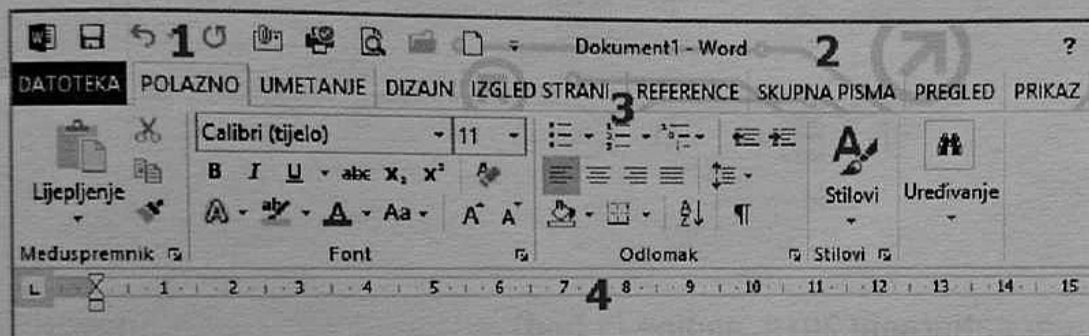
Kada radimo u programu MS Word, koju tipku na tipkovnici trebamo pritisnuti prilikom odabira objekta (slike, teksta) koji predstavlja hipervezu da nam se otvori odabirani link?

- A. Tab
B. SHIFT
C. ALT GR
D. CTRL

Odgovor: D

22. zadatak na školskom natjecanju 2015. godine (0,5+0,5+0,5+0,5 boda)

Na slici su brojevima od 1 do 4 označeni dijelovi prozora: *ravnalo*, *alatna traka za brzi pristup*, *vrpca* i *naslovna traka*. U dijelu za odgovor, pored naziva dopiši broj koji mu pripada.



Odgovor:

ravnalo: 4

alatna traka za brzi pristup: 1

vrpca: 3

naslovna traka: 2

20. zadatak na županijskom natjecanju 2015. godine (1+1 bod)


Napiši ime pripadajućeg efekta u formuli $(\text{C}_4\text{H}_{10})^2$

Odgovor:

Efekt za brojeve 4 i 10 je indeks

Efekt za broj 2 je eksponent

22. zadatak na županijskom natjecanju 2015. godine (1 bod)

Kako se naziva alat prikazan ikonom  kojeg u programima MS PowerPoint ili MS Word koristimo za stvaranje umjetničkih efekata na tekstu?

Odgovor: WordArt

22. zadatak na županijskom natjecanju 2015. godine (1 bod)



Koje podatke moramo upisati kada mijenjamo dimenzije označene slike umetnute u **Word** dokument, ako je odabran potvrđan okvir *Zadrži proporcije*?

- A. Unosimo širinu ili visinu
- B. Moramo unijeti i širinu i visinu
- C. Obavezno unosimo samo širinu
- D. Obavezno unosimo samo visinu

Odgovor: A

8. zadatak na državnom natjecanju 2015. godine (1 bod)

Koji od sljedećih alata koristimo kada želimo promijeniti položaj slike u odnosu na tekst?



Odgovor: A

18. zadatak na državnom natjecanju 2015. godine (1 bod)

Na slici se nalazi dio dokumenta napravljen u programu za obradu teksta s prikazanim oznakama oblikovanja.

U primoštenskom kraju poznati su tragovi veoma rane ilirske, →
grčke i hrvatske naseljenosti. U srednjem vijeku, tj. u desetom stoljeću,
ovaj je kraj poznat pod nazivom Primorje (Parathelesije), a u novije
doba, sve do kraja 19. st. spominje se kao Bosiljine. ↵
Od Bosiljina nastala su dva reiona: primoštenski i rogoznički kraj. ¶

----- Prijelom stranice ----- ¶

Zaokruži oznaku koja predstavlja prelazak u novi red (bez prelaska u novi odlomak)?

Odgovor:

U primoštenskom kraju poznati su tragovi veoma rane ilirske, →
grčke i hrvatske naseljenosti. U srednjem vijeku, tj. u desetom stoljeću,
ovaj je kraj poznat pod nazivom Primorje (Parathelesije), a u novije
doba, sve do kraja 19. st. spominje se kao Bosiljine. Ⓢ
Od Bosiljina nastala su dva reiona: primoštenski i rogoznički kraj. ¶

----- Prijelom stranice ----- ¶