


21. zadatak na školskom natjecanju 2015. godine (1 bod)

Kako nazivamo grafiku koju u programima za kreiranje prezentacija koristimo za umetanje organizacijske grafike (piramida, hijerarhija)?

Odgovor: SmartArt

22. zadatak na županijskom natjecanju 2015. godine (1 bod)

Kako se naziva alat prikazan ikonom  kojeg u programima MS PowerPoint ili MS Word koristimo za stvaranje umjetničkih efekata na tekstu?

Odgovor: WordArt

20. zadatak na državnom natjecanju 2015. godine (0,5*5 bod)

U programu za rad s proračunskim tablicama MS Excel napravljena je tablica kao na slici:

	A	B	C	D
1	Vrijednost	Oblik broja	Vrijednost	Oblik broja
2	1246,5	općenito	30.5.1903	
3	1.246,50 kn		1246 1/2	
4	124650%		1,25E+03	

Vrijednost iz ćelije A2, oblikovana kao *Općenit broj*, kopirana je u raspon ćelija **A3:A4; D2:D4**, te su na nju primijenjeni različiti oblici broja. Koji su oblici primijenjeni u tim ćelijama?

Uputa: odgovor upiši u tablicu na slici.

Odgovor:

	A	B	C	D
1	Vrijednost	Oblik broja	Vrijednost	Oblik broja
2	1246,5	općenito	30.5.1903	datum
3	1.246,50 kn	valuta (valutna)	1246 1/2	razlomak
4	124650%	postotak	1,25E+03	znanstveni
5				

PROGRAM ZA IZRADU PREZENTACIJA

U propozicijama natjecanja za ovo područje navode se sljedeće teme:

- Alat za izradu prezentacija
- Oblikovanje prezentacije
- Oblikovanje teksta na slajdovima
- Umetanje ilustracija
- Animacijski učinci
- Tekstni okviri, njihovo oblikovanje
- Dodatni elementi u prezentaciji (tablice, organizacijski dijagrami, tablični proračuni)
- Uređivanje glavnog slajda
- Veze između slajdova
- Prikazivanje prezentacije

Rad u programu za izradu prezentacija obrađuje se u 6., 7. i 8. razredu osnovne škole.

MS POWER POINT

Pitanja na natjecanjima iz područja "Program za izradu prezentacija" odnose se na poznavanje rada u programu MS Power Point.

Pitanja iz ovog područja nisu česta i učenici nisu imali problema prilikom pripremanja ovog područja. Ipak, preporučuje se pridati više pozornosti gradivu osmog razreda.

20. zadatak na školskom natjecanju 2011. godine (2 boda)

Kada u Power Point prezentaciju umetnete akcijski gumb moguće je postavljanje poveznice na način da se aktivira (moguće odabrati više odgovora):

- a) prijelazom miša preko poveznice
- b) klikom miša na poveznicu
- c) prijelazom miša ili klikom na poveznicu
- d) u prezentaciji nisu moguće poveznice

Odgovor: A, B, C

18. zadatak na školskom natjecanju 2013. godine (1 bod)

Ako želimo istovremeno umetnuti sliku u gornji desni ugao svih slajdova koristit ćemo:

- A. rezervirana mjesta
- B. matricu brošure
- C. matricu slajda
- D. matricu napomena

Odgovor: C

19. zadatak na školskom natjecanju 2013. godine (1 bod)

Objektima u prezentaciji **ne** mogu se dodati veze na

- A. bilješke
- B. adresu elektroničke pošte
- C. internetsku stranicu
- D. neki drugi slajd

Odgovor: A

22. zadatak na školskom natjecanju 2014. godine (1 bod)


Za označivanje više slajdova u slijedu (nizu) potrebno je kliknuti na prvi slajd niza, zatim na zadnji slajd niza držeći istovremeno pritisnutu tipku: _____

Odgovor: SHIFT

18. zadatak na županijskom natjecanju 2011. godine (2 boda)

Kao odgovor upiši pripadajuća slova redom po slikama:

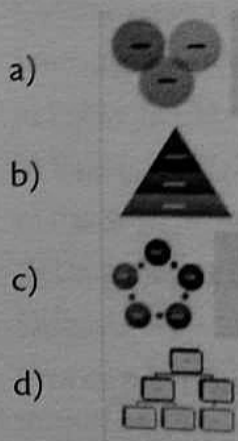
- a) Uređivanje glavnog slajda (mastera)
- b) Razvrstavač slajdova
- c) Normalan pogled
- d) Pogled strukture



Odgovor: A, C, B, D

19. zadatak na županijskom natjecanju 2011. godine (1 bod)

Koji je od sljedećih dijagrama u Power Pointu „organizacijski” (hijerarhijski)?



Odgovor: D

20. zadatak na županijskom natjecanju 2011. godine (1 bod)

Početak prikazivanja dijaprojekcije u programu Power Point od trenutnog slajda može početi s:

- a) Shift+F5
- b) Ctrl+F5
- c) Alt+F5
- d) F5

Odgovor: A

17. zadatak na županijskom natjecanju 2012. godine (1 bod)

Pomoću razmaknice (*Space*), u dijaprojekciji programa *Power Point*, ako slajd ne sadrži animaciju ili neki drugi medij možete:

- a) se vratiti na prethodni slajd
- b) se vratiti na početni slajd
- c) prijeći na slijedeći slajd
- d) prijeći na posljednji slajd

Odgovor: C

18. zadatak na županijskom natjecanju 2012. godine (1 bod)

Ako u programu *Power Point*, za vrijeme izvođenja prezentacije, pritisnemo tipku sa slovom B, tada će se:

- a) zamračiti ekran
- b) prekinuti izvođenje prezentacije
- c) čuti zvučni signal beep
- d) ništa od navedenog

Odgovor: A

16. zadatak na županijskom natjecanju 2013. godine (1 bod)

U MS PowerPointu **ne** možemo koristiti jedan od načina prikaza prezentacije:

- A. Normalno
- B. Razvrstavač slajdova
- C. Izgled ispisa
- D. Dijaprojekcija

Odgovor: C

17. zadatak na županijskom natjecanju 2013. godine (1 bod)

Iz dostupnih predložaka SmartArt grafike možemo izabrati:

- A. tablicu
- B. popis
- C. grafikon
- D. ukrasni tekst

Odgovor: B

22. zadatak na državnom natjecanju 2011. godine (1 bod)

Koji tip matrice-slajda **ne nudi** Power Point?

- a) Matrica naslova
- b) Matrica višedijelne stranice
- c) Matrica jednodijelne stranice
- d) Matrica bilješki

Odgovor: C

23. zadatak na državnom natjecanju 2011. godine (1 bod)

Koliko najviše slajdova možete ispisati po stranici prilikom ispisa brošure (Handouts) na pisač u programu Power Point?

- a) 2
- b) 8
- c) 9
- d) Nije određeno

Odgovor: C

24. zadatak na državnom natjecanju 2011. godine (1 bod)

Kako se naziva postupak spremanja prezentacije u Power Pointu koja sadržava vanjske datoteke, a želimo je prenijeti na drugo računalo?

- a) Paket za CD.
- b) Paket za mrežu.
- c) Paket za projekciju.
- d) Datoteka za izvoz.

Odgovor: A

Ova će naredba prikupiti sve datoteke koje čine prezentaciju te ih kopirati u odgovarajuću mapu ili snimiti na CD.